



Adı Soyadı : .....

Numarası : .....

## Konu: Tabloları Okuyalım, Yorumlayalım ve Düzenleyelim 3

Aşağıda bir mağazada satılan ürünlerin nesne grafiği verilmiştir. Buna göre çetele ve sıklık tablosu oluşturunuz.

Tablo: Mağazadaki Ürünler

Ürünler	Ürün Sayısı
Gömlek	
Kazak	
Pantolon	
Çorap	

**Not:** Her nesne 3 ürünü göstermektedir.

Tablo: .....

Ürünler	Ürün Sayısı
Gömlek	
Kazak	
Pantolon	
Çorap	

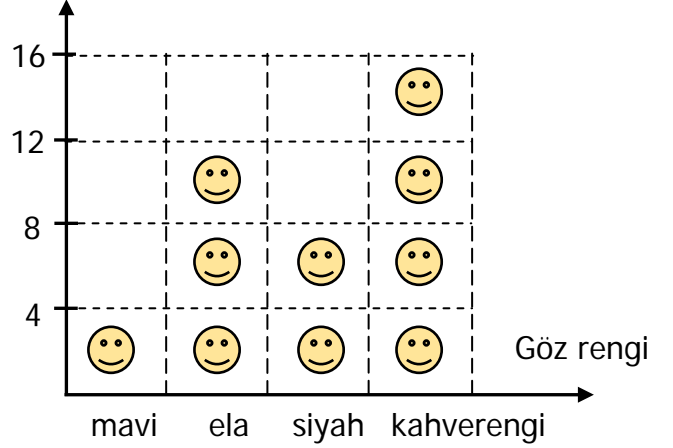
Tablo: .....

Ürünler	Ürün Sayısı
Gömlek	
Kazak	
Pantolon	
Çorap	

Aşağıda 3/A sınıfındaki öğrencilerin göz renklerinin şekil grafiği verilmiştir. Buna göre çetele ve sıklık tablosu oluşturunuz.

Grafik: Öğrencilerin göz renklerinin grafiği

Öğrenci sayısı



**Not:** Her şekil 4 öğrenciyi göstermektedir.

Tablo: .....





Göz rengi	Öğrenci Sayısı
Mavi	
Ela	
Siyah	
Kahverengi	

Tablo: .....

Göz rengi	Öğrenci Sayısı
Mavi	
Ela	
Siyah	
Kahverengi	

Aşağıda bir çiftlikte buluna hayvanların nesne grafiği verilmiştir. Buna göre çetele tablosu oluşturunuz.

**Tablo:** Çiftlikteki Hayvanlar

Hayvanlar	Hayvan Sayısı
Koyun	
İnek	
Keçi	
Tavuk	

**Not:** Her nesne 5 hayvanı göstermektedir.


**Tablo:** .....

Hayvanlar	Hayvan Sayısı
Koyun	
İnek	
Keçi	
Tavuk	

- Çiftlikte en fazla hangi hayvan vardır?  
.....
- Koyun ve keçilerin toplamı, tavuklardan kaç fazladır?  
.....
- Çiftlikte inek ve keçilerin toplamı koyunlardan kaç fazladır?  
.....
- Çiftlikte toplam kaç hayvan vardır  
.....

Aşağıda bir kırtasiyede bir günde satılan kalemelerin renklerine göre şekil grafiği verilmiştir. Buna göre sıklık tablosu oluşturunuz.

**Grafik:** Bir günde satılan kalemler grafiği



**Not:** Her şekil 7 kalemi göstermektedir.

**Tablo:** .....

Kalemler	Kalem Sayısı
Yeşil	
Beyaz	
Mavi	
Siyah	
Kırmızı	

- Kaç tane mavi kalem satılmıştır?  
.....
- Yeşil ve beyaz kalemlerin toplamı hangi kalem sayısına eşittir?  
.....
- Kırmızı ve siyah kalemlerin toplamı mavi kalemlerden kaç fazladır?  
.....
- Kırtasiyede en fazla hangi kalem satılmıştır?  
.....